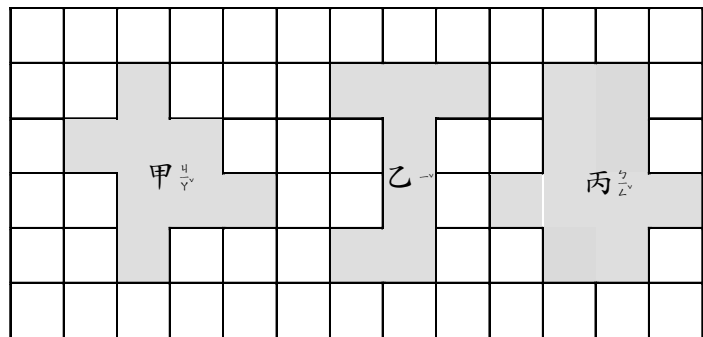


二年 班 號 姓名： _____


一、填填看看：（每格 2 分，共 64 分）

1. 下面圖形的面積各和幾個 \square 合起來一樣大？



- (1) 甲圖是 () 個 \square 。
- (2) 乙圖是 () 個 \square 。
- (3) 丙圖是 () 個 \square 。
- (4) 哪一個圖形的面積最大？()
- (5) 最大的面積和最小的面積合起來共有 () 個 \square 。

2. 一個 \blacksquare 和 1 公分一樣長，數數看看，下面東西各有多長？



- (1) 玩具車是 () 公分。
- (2) 電池是 () 公分。
- (3) 梳子是 () 公分。
- (4) 最長的和最短的相差 () 公分。

3. 小右、阿哲和小珍分別用不同長度的繩子量桌子的長，測量的結果如下。


人名	小右	阿哲	小珍
測量次數	6 次	8 次	7 次

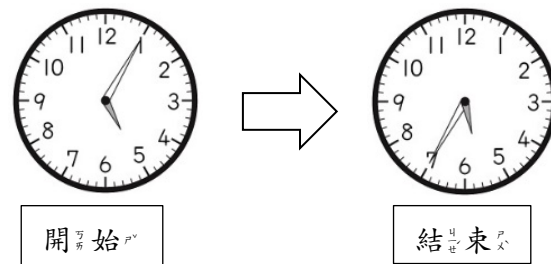
- (1) 誰用的繩子最長？()
- (2) 誰用的繩子最短？()


4. 13 個十和 5 個一合起來是 ()。
5. 176 是 () 個百、() 個十和 () 個一合起來的。
6. 小建有 180 元，媽媽給他 10 元後就有幾元？ () 元。媽媽再給他 10 元呢？ () 元。
7. 「一百零六」記作 ()。
8. 按照順序填填看看。

121 - 120 = - 118 =

9. 看看鐘面回答問題：

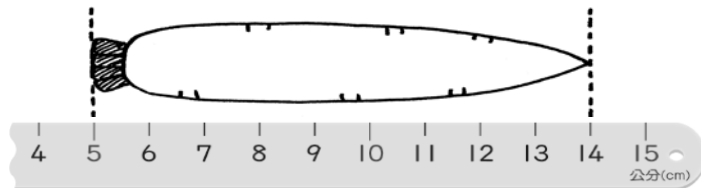
- (1) 表姐上午  開始賣衣服，2 小時後賣完。賣完衣服是上午 () 時 () 分。
- (2) 妹妹畫了一張圖，花了 () 分鐘。



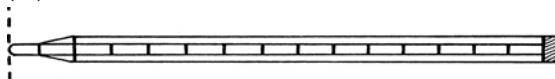
- (3)  這是 () 點 () 分；分針再走 2 小格，代表時間經過了 () 分鐘，這樣是 () 點 () 分。

10. 有多長：

- (1) 蘿蔔長 () 公分。



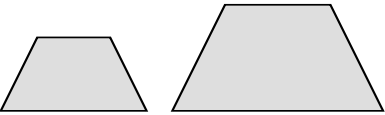

- (2) 量量看看，有多長？







大約長 () 公分

背面還有試題

11. 哪一個圖形的面積比較大？請在()內打✓

(1)	(2)
	
() ()	() ()

二、連連看：把時間相同的連起來。(每答1分，共4分)

	•	•	<input type="text" value="3:47"/>
	•	•	<input type="text" value="4:27"/>
	•	•	<input type="text" value="6:58"/>
	•	•	<input type="text" value="5:10"/>

三、用直式計算看：(每題2分，共8分)

(1) $45 - 8$

(2) $47 + 74$

(3) $82 - 36$

(4) $18 + 52$

四、在□裡填入>或<。(每題1分，共5分)

(1) 197 □ 190

(2) 148 □ 184

(3) 99 □ 101

(4) 199 □ 200

(5) 180 □ 108

五、畫畫看：(第一題2分，第二題5分；共7分)

(1) 畫出4公分長的直線。

(2) 用100、10或10的圖畫畫看。



六、寫出做法和答案：(每題4分，共12分)

(1) 一個箱子高72公分，2個盒子疊在一起的的高，共是幾公分？

(2) 全班有28個小朋友，一人喝一瓶運動飲料後，飲料還剩下11瓶，原來有幾瓶運動飲料？

(3) 小建有24張貼紙，阿德有58張貼紙，阿德比小建多了幾張貼紙？

寫完了，記得多檢查幾次。